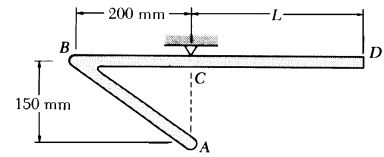


## CALCULO DE CENTROS DE MASA: LONGITUDES

Determinar  $L$  para que la barra  $BCD$  quede horizontal al ser suspendida por el punto  $C$ .



**Solución: I.T.I. 01, 04, I.T.T. 01, 04**

Para que la barra  $BCD$  quede perfectamente horizontal es necesario que el centro de masas de toda la pieza se sitúe justo debajo del punto  $C$ . Si situamos nuestro origen de coordenadas en el punto  $B$  y orientamos los ejes  $X$  e  $Y$  horizontal y verticalmente respectivamente, la condición que tenemos que imponer es que  $x_{C.M.} = 200 \text{ mm}$ .

Para calcular el centro de masas dividimos la pieza en dos barras. El centro de masas de cada una de ellas se situará en su centro:

Barra  $AB$ : con centro de masas en  $x_{AB} = 100 \text{ mm}$ ,  $y_{AB} = -75 \text{ mm}$

Barra  $BCD$ : con centro de masas en  $x_{BCD} = 100 \text{ mm} + \frac{1}{2}L$ ,  $y_{BCD} = 0 \text{ mm}$

La coordenada  $x$  del C.M. de toda la pieza vendrá dada por:

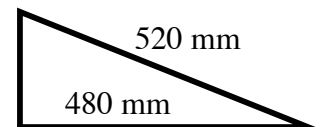
$$L_{AB} = \sqrt{(200 \text{ mm})^2 + (150 \text{ mm})^2} = 250 \text{ mm}$$

$$x_{C.M.} = \frac{x_{AB} L_{AB} + x_{BCD} L_{BCD}}{L_{AB} + L_{BCD}} = \frac{(100 \text{ mm})(250 \text{ mm}) + \left(100 \text{ mm} + \frac{1}{2}L\right)(200 \text{ mm} + L)}{(250 \text{ mm}) + (200 \text{ mm} + L)} =$$

$$= 200 \text{ mm} \Rightarrow$$

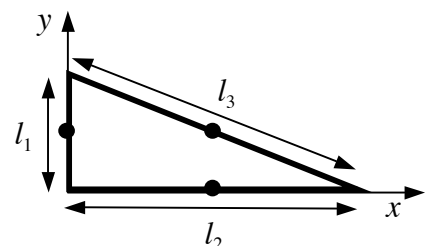
$L = 300 \text{ mm}$

Determinar el centro de masas del alambre con forma triangular representado en la figura.



**Solución: I.T.I. 99, 02, I.T.T. 99, 02**

Dividimos el alambre triangular en tres alambres rectilíneos con el c.m. de cada uno en su punto medio. Calcular el c. m. del conjunto es equivalente a concentrar la masa de los tres alambres rectilíneos en su



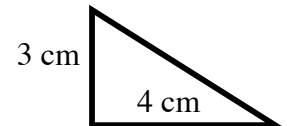
centro, considerándolos así como puntuales, y calcular el c.m. de un sistema de tres partículas.

$$l_1 = \sqrt{l_3^2 - l_2^2} = 200 \text{ mm}$$

Las posiciones que representan a cada alambre rectilíneo serán las de sus c.m.:

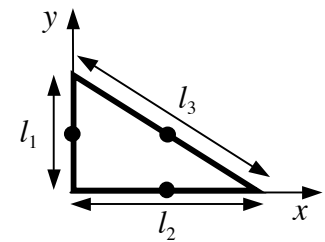
$$\left. \begin{array}{l} \vec{r}_1 = (0, 100) \text{ mm} \\ \vec{r}_2 = (240, 0) \text{ mm} \\ \vec{r}_3 = (240, 100) \text{ mm} \end{array} \right\} \Rightarrow \vec{r}_{C.M.} = \frac{l_1 \vec{r}_1 + l_2 \vec{r}_2 + l_3 \vec{r}_3}{l_1 + l_2 + l_3} = \boxed{(200, 60) \text{ mm}}$$

Determinar el centro de masas del alambre con forma triangular representado en la figura.



**Solución: I.T.I. 03, I.T.T. 03**

Dividimos el alambre triangular en tres alambres rectilíneos con el c.m. de cada uno en su punto medio. Calcular el c. m. del conjunto es equivalente a concentrar la masa de los tres alambres rectilíneos en su centro, considerándolos así como puntuales, y calcular el c.m. de un sistema de tres partículas.

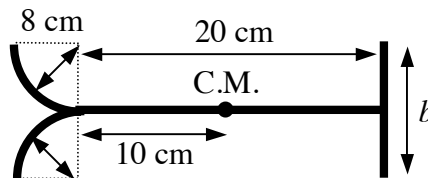


$$l_3 = \sqrt{l_1^2 + l_2^2} = 5 \text{ cm}$$

Las posiciones que representan a cada alambre rectilíneo serán las de sus c.m.:

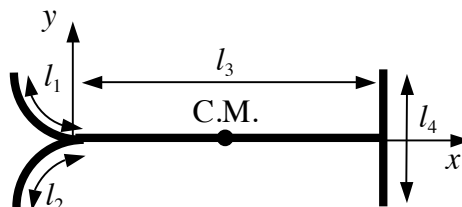
$$\left. \begin{array}{l} \vec{r}_1 = (0, 1.5) \text{ cm} \\ \vec{r}_2 = (2, 0) \text{ cm} \\ \vec{r}_3 = (2, 1.5) \text{ cm} \end{array} \right\} \Rightarrow \vec{r}_{C.M.} = \frac{l_1 \vec{r}_1 + l_2 \vec{r}_2 + l_3 \vec{r}_3}{l_1 + l_2 + l_3} = \boxed{(1.5, 1) \text{ cm}}$$

Hallar la longitud  $b$  del alambre uniforme de la figura.



**Solución: I.T.I. 02, I.T.T. 99, 02**

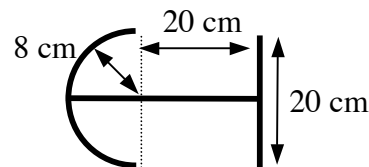
Dividimos el alambre completo en cuatro piezas: dos cuartos de círculo, un alambre horizontal y uno vertical. Cada pieza vendrá representada por la posición de su centro de masas y el problema es equivalente al cálculo del c.m. de un sistema de cuatro partículas:



$$\left. \begin{aligned} l_1 = 4\pi \text{ cm} \quad , \quad \vec{r}_1 &= \left( -\frac{16}{\pi}, 8 - \frac{16}{\pi} \right) \text{ cm} \\ l_2 = 4\pi \text{ cm} \quad , \quad \vec{r}_2 &= \left( -\frac{16}{\pi}, \frac{16}{\pi} - 8 \right) \text{ cm} \\ l_3 = 20 \text{ cm} \quad , \quad \vec{r}_3 &= (10, 0) \text{ cm} \\ l_4 = b \quad , \quad \vec{r}_4 &= (20, 0) \text{ cm} \end{aligned} \right\} , \quad \vec{r}_{C.M.} = \frac{l_1 \vec{r}_1 + l_2 \vec{r}_2 + l_3 \vec{r}_3 + l_4 \vec{r}_4}{l_1 + l_2 + l_3 + l_4} = (10, 0)$$

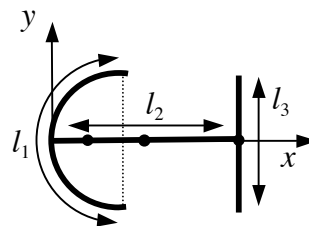
$$\Rightarrow l_4 = b = \boxed{37.9 \text{ cm}}$$

Determinar el centro de masas del alambre representado en la figura.



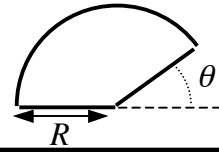
**Solución: I.T.I. 03, I.T.T. 03**

Dividimos el alambre completo en tres piezas: medio círculo, un alambre horizontal y uno vertical. Cada pieza vendrá representada por la posición de su centro de masas y el problema es equivalente al cálculo del c.m. de un sistema de tres partículas:



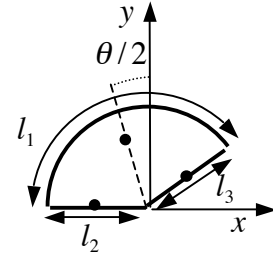
$$\left. \begin{aligned} l_1 = 8\pi \text{ cm} \quad , \quad \vec{r}_1 &= \left( 8 - \frac{16}{\pi}, 0 \right) \text{ cm} \\ l_2 = 28 \text{ cm} \quad , \quad \vec{r}_2 &= (14, 0) \text{ cm} \\ l_3 = 20 \text{ cm} \quad , \quad \vec{r}_3 &= (28, 0) \text{ cm} \end{aligned} \right\} \Rightarrow \vec{r}_{C.M.} = \frac{l_1 \vec{r}_1 + l_2 \vec{r}_2 + l_3 \vec{r}_3}{l_1 + l_2 + l_3} = \boxed{14.02 \text{ cm}}$$

Determinar el centro de masas del alambre representado en la figura.  
 $R = 10 \text{ cm}$ ,  $\theta = 45^\circ$



**Solución: I.T.I. 03, I.T.T. 03**

Dividimos el alambre completo en tres piezas: un arco circular y dos alambres rectilíneos. Cada pieza vendrá representada por la posición de su centro de masas y el problema es equivalente al cálculo del c.m. de un sistema de tres partículas:



$$l_1 = (\pi - \theta)R = 23.56 \text{ cm} \quad , \quad \vec{r}_1 = \frac{R \operatorname{sen}\left(\frac{\pi - \theta}{2}\right)}{\left(\frac{\pi - \theta}{2}\right)} (-\operatorname{sen}[\theta/2], \operatorname{cos}[\theta/2]) = (-3.00, 7.25) \text{ cm}$$

$$l_2 = R = 10 \text{ cm} \quad , \quad \vec{r}_2 = \frac{R}{2}(-1, 0) = (-5, 0) \text{ cm}$$

$$l_3 = R = 10 \text{ cm} \quad , \quad \vec{r}_3 = \frac{R}{2}(\operatorname{cos}\theta, \operatorname{sen}\theta) = (3.54, 3.54) \text{ cm}$$

$$\Rightarrow \vec{r}_{C.M.} = \frac{l_1 \vec{r}_1 + l_2 \vec{r}_2 + l_3 \vec{r}_3}{l_1 + l_2 + l_3} = \boxed{(-1.96, 4.73) \text{ cm}}$$