

Proyecto MaTeX

Razones

Trigonométricas I

Fco Javier González Ortiz

Directorio

- [Tabla de Contenido](#)
- [Inicio Artículo](#)

© 2004 javier.gonzalez@unican.es
D.L.:SA-1415-2004

ISBN: 84-688-8267-4



MaTeX

TRIGONO-
METRÍA I



Tabla de Contenido

1. Ángulos
 - 1.1. Ángulo sexagesimal
 - 1.2. Radianes
2. Razones trigonométricas
 - 2.1. Razones trigonométricas de 30° , 45° y 60°
 - Razones de 45°
 - Razones de 30° y 60°
 - 2.2. Fórmula fundamental de trigonometría
3. Ampliación de las razones trigonométricas
 - 3.1. Razones de 0° , 90° , 180° y 270°
 - 3.2. Razones de ángulos complementarios
 - 3.3. Reducción de razones al 1° cuadrante
 - Para ángulos suplementarios
 - Para ángulos que se diferencian en $180^0(\pi)$
 - Para ángulos opuestos
 - 3.4. Resumen
4. Identidades trigonométricas básicas


Soluciones a los Ejercicios

Soluciones a los Tests



MaTeX

TRIGONO-
METRÍA I

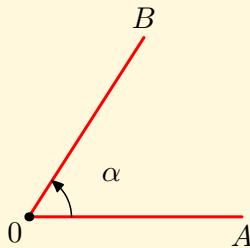


1. Ángulos

Los ángulos se forman siempre que dos segmentos se unen.

Los dos segmentos \overline{OA} y \overline{OB} de la figura, que se unen en el punto O , determinan el ángulo $\angle AOB$.

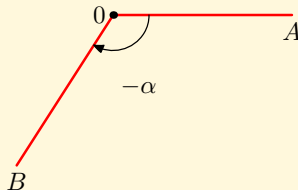
La flecha curva en esta figura sugiere que el ángulo se mide desde segmento \overline{OA} , el lado inicial del ángulo, al lado final \overline{OB} .



El punto O se llama el vértice de $\angle AOB$.


La orientación de la flecha curva se toma positiva cuando el giro es contrario a las agujas del reloj.

El giro en sentido del reloj se considera como ángulo negativo.



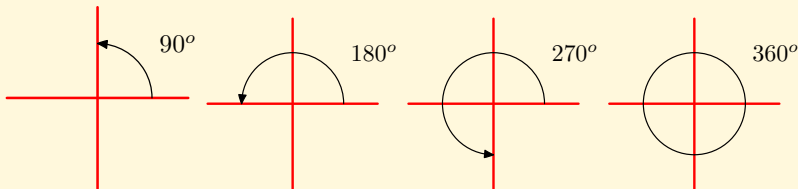
MaTEX

TRIGONO-
METRÍA I



1.1. Ángulo sexagesimal

Se necesita dar una medida a los ángulos. Desde la época de los babilonios se toma una revolución completa como 360° grados sexagesimales.



Quedando dividida una revolución completa en cuatro cuadrantes de 90° . Cada **grado** es igual a $60'$ minutos y cada **minuto** es igual a $60''$ segundos.

$$\begin{aligned} 1^\circ &= 60' \text{ minutos} \\ 1' &= 60'' \text{ segundos} \end{aligned}$$

Ejemplo 1.1. Expresar en grados minutos y segundos $34,2577^\circ$.

Solución: Tenemos 34° , con

$$0,2577^\circ \times 60 = 15,462'$$

y

$$0,463' \times 60 = 27,462''$$


luego $34,2577^\circ \simeq 34^\circ, 15' 27''$

□



MaTEX

TRIGONO-
METRÍA I



Ejemplo 1.2. Expresar en grados $80^{\circ} 12' 30''$.

Solución: Se convierten los minutos y los segundos a grados

$$80 + \frac{12}{60} + \frac{30}{3600} = 80,20833^{\circ}$$

Ejemplo 1.3. Expresar en grados $120'$ minutos.

Solución: Se convierten los minutos a grados

$$\frac{120'}{60} = 2^{\circ}$$

Ejemplo 1.4. Expresar en grados , minutos y segundos $60,5^{\circ}$.

Solución: Tenemos 60° , con

$$0,5^{\circ} \times 60 = 30'$$

luego $60,5^{\circ} = 60^{\circ} 30' 0''$

Ejemplo 1.5. Expresar en minutos $120''$ segundos.


Solución: Se convierten los segundos a minutos

$$\frac{120''}{60} = 2'$$



MaTeX

TRIGONO-
METRÍA I

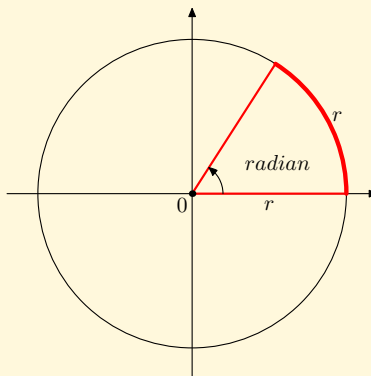


1.2. Radianes

Se define **radián** como el ángulo con centro en O que abarca un radio. Como un ángulo de 360° abarca un arco de circunferencia de $2\pi r$, la tabla muestra la equivalencia entre arcos, grados sexagesimales y radianes.

$$\text{Arco} = \text{ángulo} \times \text{radio}$$

arco	grados sex.	radianes
$2\pi r$	360°	2π
r	$\frac{180^\circ}{\pi}$	1
$\frac{2\pi r}{360}$	1°	$\frac{\pi}{180}$



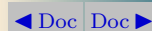
$$1 \text{ radián} = \frac{180}{\pi} \text{ grados}$$

$$1^\circ = \frac{\pi}{180} \text{ radianes}$$



MaTeX

TRIGONO-
METRÍA I



Ejemplo 1.6. Expresar en radianes los grados 90° , 180° , 270° , 360° .

Solución: Como $1^\circ \equiv \frac{\pi}{180}$,

$$90^\circ = 90^\circ \frac{\pi}{180} = \frac{\pi}{2} \qquad 180^\circ = 180^\circ \frac{\pi}{180} = \pi$$

$$270^\circ = 270^\circ \frac{\pi}{180} = \frac{3\pi}{2} \qquad 360^\circ = 360^\circ \frac{\pi}{180} = 2\pi$$

Ejemplo 1.7. Expresar en grados los radianes $\frac{\pi}{3}$, $\frac{2\pi}{3}$, $\frac{3\pi}{4}$, $\frac{5\pi}{6}$.

Solución: Como $\pi \equiv 180^\circ$,

$$\frac{\pi}{3} = \frac{180}{3} = 60^\circ \qquad \frac{2\pi}{3} = \frac{2 \cdot 180}{3} = 120^\circ$$

$$\frac{3\pi}{4} = \frac{3 \cdot 180}{4} = 135^\circ \qquad \frac{5\pi}{6} = \frac{5 \cdot 180}{6} = 150^\circ$$

Ejercicio 1. Expresar en grados los siguientes radianes:

$$a) \frac{\pi}{4} \qquad b) \frac{2\pi}{3} \qquad c) \frac{3\pi}{2} \qquad d) \frac{3\pi}{4}$$

Ejercicio 2. Expresar en radianes los siguientes ángulos en grados:

$$a) 30^\circ \qquad b) 45^\circ \qquad c) 120^\circ \qquad d) 330^\circ$$



MaTEX

TRIGONO-
METRÍA I



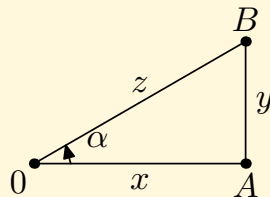
2. Razones trigonométricas

En un triángulo rectángulo de catetos x, y e hipotenusa z se definen las razones trigonométricas del ángulo α , seno, coseno y tangente como:

$$\operatorname{sen} \alpha = \frac{\text{cateto opuesto}}{\text{hipotenusa}} = \frac{AB}{OB} = \frac{y}{z}$$

$$\operatorname{cos} \alpha = \frac{\text{cateto contiguo}}{\text{hipotenusa}} = \frac{OA}{OB} = \frac{x}{z}$$

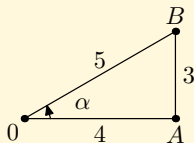
$$\operatorname{tan} \alpha = \frac{\text{cateto opuesto}}{\text{cateto contiguo}} = \frac{AB}{OA} = \frac{y}{x}$$



A partir de ellas se definen las inversas: cosecante, secante y cotangente:


$$\operatorname{cosec} \alpha = \frac{1}{\operatorname{sen} \alpha} = \frac{z}{y} \quad \operatorname{sec} \alpha = \frac{1}{\operatorname{cos} \alpha} = \frac{z}{x} \quad \operatorname{cot} \alpha = \frac{1}{\operatorname{tan} \alpha} = \frac{x}{y}$$

Ejercicio 3. Hallar las razones del ángulo α en el triángulo



MaTeX

TRIGONO-
METRÍA I



2.1. Razones trigonométricas de 30° , 45° y 60°

• Razones de 45°

Para obtener las razones de 45° construimos un triángulo rectángulo ABC de catetos iguales

$$AB = AC = 1$$

e hipotenusa

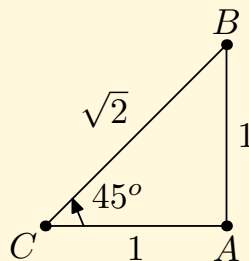
$$BC = \sqrt{1^2 + 1^2} = \sqrt{2}$$

Los ángulos son

$$\hat{A} = 90^\circ \quad \hat{B} = \hat{C} = 45^\circ$$

Se tiene así, que


$$\begin{aligned} \operatorname{sen} 45^\circ &= \frac{1}{\sqrt{2}} = \frac{\sqrt{2}}{2} \\ \operatorname{cos} 45^\circ &= \frac{1}{\sqrt{2}} = \frac{\sqrt{2}}{2} \\ \operatorname{tan} 45^\circ &= 1 \end{aligned}$$



MaTeX

TRIGONO-
METRÍA I

(1)



- Razones de 30° y 60°**

Para obtener las razones de 30° y 60° partimos de un triángulo equilátero ABC de lado

$$AB = AC = BC = 1$$

Al trazar la altura CH se obtiene el triángulo rectángulo AHC de lados

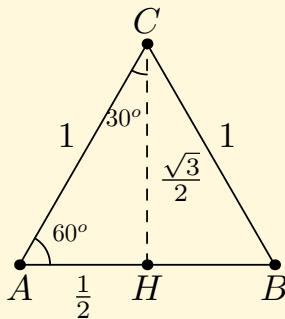
$$AH = \frac{1}{2} \quad AC = 1 \quad CH = \frac{\sqrt{3}}{2}$$

con los ángulos $\hat{A} = 60^\circ$, $\hat{C} = 30^\circ$. Se tiene así, que

$$\operatorname{sen} 30^\circ = \frac{AH}{AC} = \frac{1}{2} \quad \operatorname{cos} 30^\circ = \frac{CH}{AC} = \frac{\sqrt{3}}{2} \quad \operatorname{tan} 30^\circ = \frac{AH}{CH} = \frac{1}{\sqrt{3}}$$


Análogamente

$$\operatorname{sen} 60^\circ = \frac{CH}{AC} = \frac{\sqrt{3}}{2} \quad \operatorname{cos} 60^\circ = \frac{AH}{AC} = \frac{1}{2} \quad \operatorname{tan} 60^\circ = \frac{CH}{AH} = \sqrt{3}$$



MaTeX

TRIGONO-
METRÍA I



Es conveniente aprenderse las razones trigonométricas de 30° , 45° y 60° . Por ello, las resumimos en la siguiente tabla para memorizarlas.

	30°	45°	60°
sen	$\frac{1}{2}$	$\frac{\sqrt{2}}{2}$	$\frac{\sqrt{3}}{2}$
cos	$\frac{\sqrt{3}}{2}$	$\frac{\sqrt{2}}{2}$	$\frac{1}{2}$
tan	$\frac{\sqrt{3}}{3}$	1	$\sqrt{3}$

Para las razones $\operatorname{cosec} \alpha$, $\operatorname{sec} \alpha$ y $\operatorname{cot} \alpha$, simplemente basta hacer los inversos.

A continuación se proponen dos test para comprobar si el alumno las ha memorizado.



MaTeX

TRIGONO-
METRÍA I





Inicio del Test Indicar el valor de las razones siguientes:

1. El valor de $\sin 30^\circ$ es:

(a) $\frac{\sqrt{3}}{2}$

(b) $\frac{1}{2}$

(c) $\frac{\sqrt{2}}{2}$

(d) $\sqrt{3}$

2. El valor de $\cos 30^\circ$ es:

(a) $\frac{\sqrt{3}}{2}$

(b) $\frac{1}{2}$

(c) $\frac{\sqrt{2}}{2}$

(d) $\sqrt{3}$

3. El valor de $\tan 30^\circ$ es:

(a) $\frac{\sqrt{3}}{3}$

(b) $\frac{1}{2}$

(c) $\frac{\sqrt{2}}{2}$

(d) $\sqrt{3}$

4. El valor de $\sin 60^\circ$ es:

(a) $\frac{\sqrt{3}}{2}$

(b) $\frac{1}{2}$

(c) $\frac{\sqrt{2}}{2}$

(d) $\sqrt{3}$

5. El valor de $\cos 60^\circ$ es:

(a) $\frac{\sqrt{3}}{2}$

(b) $\frac{1}{2}$

(c) $\frac{\sqrt{2}}{2}$

(d) $\sqrt{3}$

6. El valor de $\tan 60^\circ$ es:

(a) $\frac{\sqrt{3}}{2}$

(b) $\frac{1}{2}$


(c) $\frac{\sqrt{2}}{2}$

(d) $\sqrt{3}$

Final del Test

MaTeX

TRIGONO-
METRÍA I





Inicio del Test Indicar el valor de las razones siguientes:

1. El valor de $\tan 60^\circ$ es:

(a) $\frac{\sqrt{3}}{2}$

(b) $\frac{1}{2}$

(c) $\frac{\sqrt{2}}{2}$

(d) $\sqrt{3}$

2. El valor de $\tan 45^\circ$ es:

(a) $\frac{\sqrt{3}}{2}$

(b) $\frac{1}{2}$

(c) 1

(d) $\sqrt{3}$

3. El valor de $\sin 45^\circ$ es:

(a) $\frac{\sqrt{3}}{3}$

(b) $\frac{1}{2}$

(c) $\frac{\sqrt{2}}{2}$

(d) $\sqrt{3}$

4. El valor de $\sec 60^\circ$ es:

(a) 2

(b) $\frac{1}{2}$

(c) $\frac{\sqrt{2}}{2}$

(d) $\sqrt{3}$

5. El valor de $\operatorname{cosec} 30^\circ$ es:

(a) $\frac{\sqrt{3}}{2}$

(b) 2

(c) $\frac{\sqrt{2}}{2}$

(d) $\sqrt{3}$

6. El valor de $\sec 30^\circ$ es:

(a) $\frac{\sqrt{3}}{2}$

(b) 2


(c) $\frac{\sqrt{2}}{2}$

(d) $\frac{2}{\sqrt{3}}$

Final del Test

MaTeX

TRIGONO-
METRÍA I





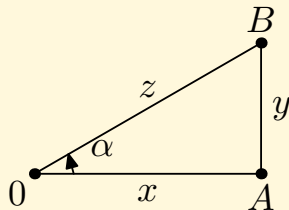
2.2. Fórmula fundamental de trigonometría

A partir de un triángulo rectángulo de catetos x, y e hipotenusa z , el teorema de Pitágoras y la definición dada de las razones trigonométricas del ángulo α , se obtiene la fórmula fundamental de la trigonometría

$$x^2 + y^2 = z^2$$

Dividiendo por z^2 se tiene

$$\left(\frac{x}{z}\right)^2 + \left(\frac{y}{z}\right)^2 = 1$$



teniendo en cuenta que $\text{sen } \alpha = \frac{y}{z}$ y que $\text{cos } \alpha = \frac{x}{z}$, sustituyendo se obtiene


$$\text{sen}^2 \alpha + \text{cos}^2 \alpha = 1 \quad (2)$$

Dividiendo ambos miembros por $\text{cos}^2 \alpha$ se obtiene otra relación

$$1 + \tan^2 \alpha = \sec^2 \alpha \quad (3)$$

MaTeX

TRIGONO-
METRÍA I



3. Ampliación de las razones trigonométricas

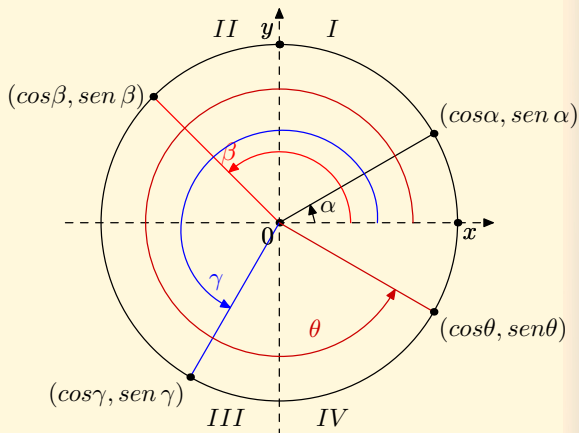
Si comparas la circunferencia de centro O y radio 1 de ecuación

$$x^2 + y^2 = 1 \quad \cos^2 \alpha + \sen^2 \alpha = 1$$

se ve que todo punto $P(x, y)$ de la circunferencia se puede escribir como $(\cos \alpha, \sen \alpha)$ para algún ángulo α .

Los ángulos se miden desde el eje Ox en sentido contrario a las agujas del reloj.

Al dar una revolución completa se recorren todos los puntos de la circunferencia unidad.




De esta forma definimos las razones para los ángulos que no son agudos.



MaTEX

TRIGONO-
METRÍA I

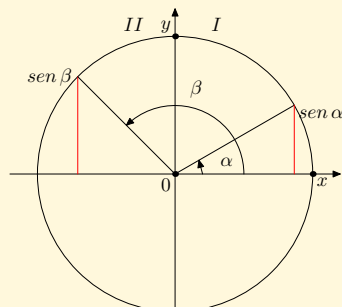




MaTeX

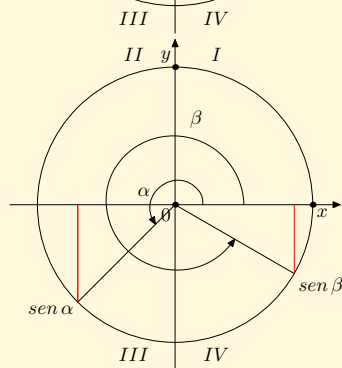
El **seno** de los ángulos que están en los cuadrantes *I* y *II*, al estar en la parte positiva del eje *Oy* **es positivo**. Es decir si

$$0 < \alpha < \pi \implies \text{sen } \alpha > 0$$




El **seno** del ángulo que está en los cuadrantes *III* y *IV*, al estar en la parte negativa del eje *Oy* **es negativo**. Es decir si

$$\pi < \alpha < 2\pi \implies \text{sen } \alpha < 0$$



TRIGONO-
METRÍA I



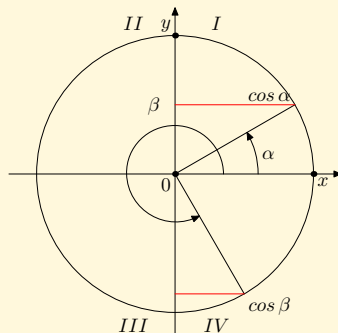


MaTeX

TRIGONO-
METRÍA I


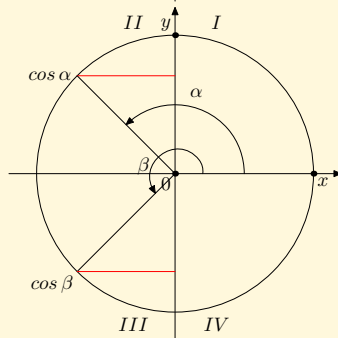
El **coseno** del ángulo que está en los cuadrantes I y IV, al estar en la parte positiva del eje Ox **es positivo**. Es decir si

$$\alpha \in I, IV \implies \cos \alpha > 0$$



El **coseno** del ángulo que está en los cuadrantes II y III, al estar en la parte negativa del eje Ox **es negativo**. Es decir si

$$\alpha \in II, III \implies \cos \alpha < 0$$






Inicio del Test Indicar el signo de las razones en los cuadrantes:

1. El signo del seno en el *II* cuadrante es:
 - (a) positivo
 - (b) negativo
2. El signo del seno en el *III* cuadrante es:
 - (a) positivo
 - (b) negativo
3. El signo del coseno en el *II* cuadrante es:
 - (a) positivo
 - (b) negativo
4. El signo del coseno en el *IV* cuadrante es:
 - (a) positivo
 - (b) negativo
5. El signo de la tangente en el *II* cuadrante es:
 - (a) positivo
 - (b) negativo

Final del Test

MaTeX

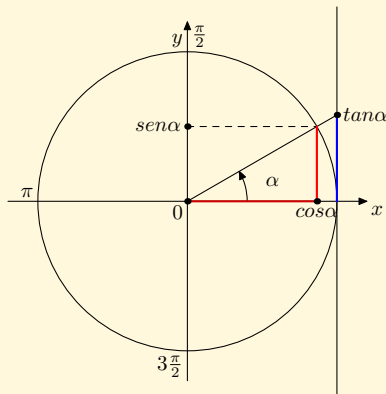
TRIGONO-
METRÍA I



3.1. Razones de 0° , 90° , 180° y 270°

A medida que nos desplazamos por el círculo unidad, se obtienen las razones:

	0°	90°	180°	270°
sen	0	1	0	-1
cos	1	0	-1	0
tan	0	\nexists	0	\nexists




El símbolo \nexists significa que no está definida o no existe. Para las razones $\operatorname{cosec} \alpha$, $\operatorname{sec} \alpha$ y $\operatorname{cot} \alpha$, simplemente basta hacer los inversos.

A continuación se proponen dos test para comprobar si el alumno las ha memorizado.



MaTeX

TRIGONO-
METRÍA I





Inicio del Test Indicar el valor de las razones siguientes:

1. El valor de $\sin 180^\circ$ es:

- (a) 0 (b) 1 (c) -1 (d) \neq

2. El valor de $\cos 180^\circ$ es:

- (a) 0 (b) 1 (c) -1 (d) \neq

3. El valor de $\tan 180^\circ$ es:

- (a) 0 (b) 1 (c) -1 (d) \neq

4. El valor de $\cos 270^\circ$ es:

- (a) 0 (b) 1 (c) -1 (d) \neq

5. El valor de $\tan 270^\circ$ es:

- (a) 0 (b) 1 (c) -1 (d) \neq


6. El valor de $\cos 90^\circ$ es:

- (a) 0 (b) 1 (c) -1 (d) \neq

Final del Test

MaTeX

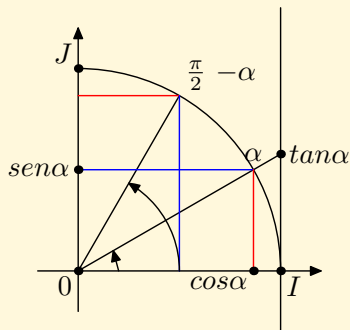
TRIGONO-
METRÍA I



3.2. Razones de ángulos complementarios

En el círculo unidad, de la figura se representa un ángulo α así como su complementario $\frac{\pi}{2} - \alpha$.

Al ser los ángulos complementarios se observa que el seno de uno de ellos es el coseno del otro y recíprocamente, por ello:



$$\begin{aligned}
 \operatorname{sen}\left(\frac{\pi}{2} - \alpha\right) &= \cos \alpha & \operatorname{cosec}\left(\frac{\pi}{2} - \alpha\right) &= \sec \alpha \\
 \cos\left(\frac{\pi}{2} - \alpha\right) &= \operatorname{sen} \alpha & \sec\left(\frac{\pi}{2} - \alpha\right) &= \operatorname{cosec} \alpha \\
 \tan\left(\frac{\pi}{2} - \alpha\right) &= \cot \alpha & \cot\left(\frac{\pi}{2} - \alpha\right) &= \tan \alpha
 \end{aligned}$$

(4)



MaTeX

TRIGONO-
METRÍA I

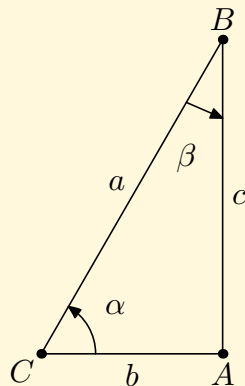


Las razones de ángulos complementarios, se ven fácilmente en un triángulo rectángulo $\triangle CAB$, ya que para los ángulos agudos se tiene

$$\alpha + \beta = 90^\circ = \frac{\pi}{2}$$

De la definición de las razones se comprueban las relaciones anteriores con

$$\beta = \frac{\pi}{2} - \alpha$$



$$\text{sen } \alpha = \frac{c}{a}$$

$$\text{cos } \alpha = \frac{b}{a}$$

$$\text{tan } \alpha = \frac{c}{b}$$

$$\text{sen } \beta = \frac{b}{a}$$


$$\text{cos } \beta = \frac{c}{a}$$

$$\text{tan } \beta = \frac{b}{c}$$



MaTEX

TRIGONO-
METRÍA I

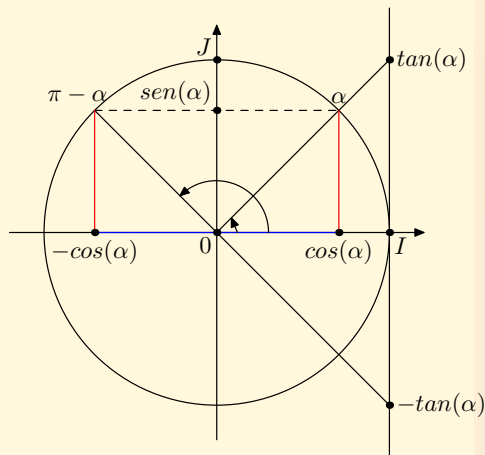


3.3. Reducción de razones al 1º cuadrante

- Para ángulos suplementarios

Sobre el círculo unidad, en la figura se representa el ángulo α así como su suplementario $\pi - \alpha$.

Se observa que el seno de ambos coincide en valor y signo, y el coseno y la tangente son de signo contrario

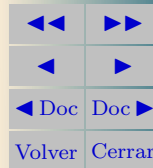


$$\begin{array}{ll}
 \operatorname{sen}(\pi - \alpha) = \operatorname{sen} \alpha & \operatorname{cosec}(\pi - \alpha) = \operatorname{cosec} \alpha \\
 \operatorname{cos}(\pi - \alpha) = -\operatorname{cos} \alpha & \operatorname{sec}(\pi - \alpha) = -\operatorname{sec} \alpha \\
 \operatorname{tan}(\pi - \alpha) = -\operatorname{tan} \alpha & \operatorname{cot}(\pi - \alpha) = -\operatorname{cot} \alpha
 \end{array}$$

(5)



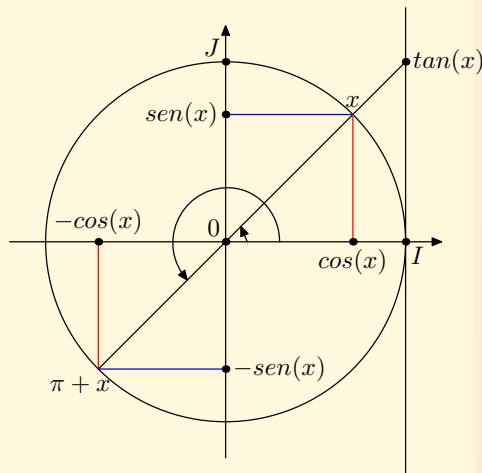
MaTeX

TRIGONO-
METRÍA I

- Para ángulos que se diferencian en $180^0(\pi)$

Sobre el círculo unidad, en la figura se representa el ángulo α así como el ángulo $\pi + \alpha$.

Se observa que el seno y el coseno cambian de signo y la tangente lo mantiene.



$$\operatorname{sen}(\pi + \alpha) = -\operatorname{sen} \alpha \quad \operatorname{cosec}(\pi - \alpha) = -\operatorname{cosec} \alpha$$

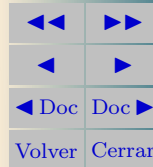
$$\operatorname{cos}(\pi + \alpha) = -\operatorname{cos} \alpha \quad \operatorname{sec}(\pi - \alpha) = -\operatorname{sec} \alpha$$

$$\operatorname{tan}(\pi + \alpha) = \operatorname{tan} \alpha \quad \operatorname{cot}(\pi - \alpha) = \operatorname{cot} \alpha$$

(6)

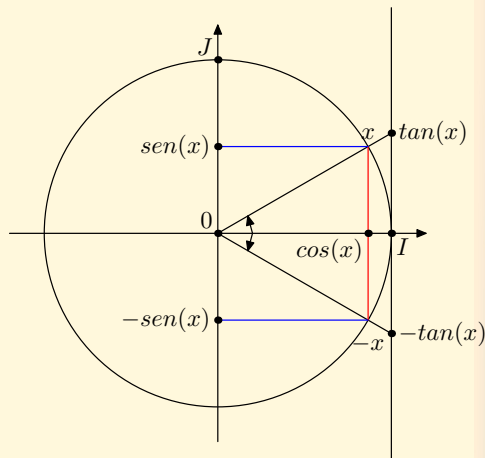


MaTeX

TRIGONO-
METRÍA I

- Para ángulos opuestos

Sobre el círculo unidad, en la figura se representa el ángulo α así como su ángulo opuesto $2\pi - \alpha = -\alpha$. Se observa que el coseno de ambos coincide en valor y signo, y el seno y la tangente son de signo contrario.

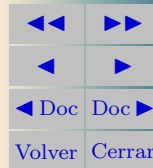


$$\begin{array}{ll}
 \operatorname{sen}(-\alpha) = -\operatorname{sen} \alpha & \operatorname{cosec}(-\alpha) = -\operatorname{cosec} \alpha \\
 \operatorname{cos}(-\alpha) = \operatorname{cos} \alpha & \operatorname{sec}(-\alpha) = \operatorname{sec} \alpha \\
 \operatorname{tan}(-\alpha) = -\operatorname{tan} \alpha & \operatorname{cot}(-\alpha) = -\operatorname{cot} \alpha
 \end{array}$$

(7)



MaTeX

TRIGONO-
METRÍA I

3.4. Resumen

Las razones de los ángulos en rojo en función de $\frac{\pi}{2}$ o $\frac{3\pi}{2}$, se relacionan con las razones de α de la siguiente forma



MaTeX

TRIGONO-
METRÍA I

$$\operatorname{sen}\left(\frac{\pi}{2} - \alpha\right) = \cos \alpha$$

$$\operatorname{sen}\left(\frac{\pi}{2} + \alpha\right) = \cos \alpha$$

$$\operatorname{sen}\left(\frac{3\pi}{2} - \alpha\right) = -\cos \alpha$$

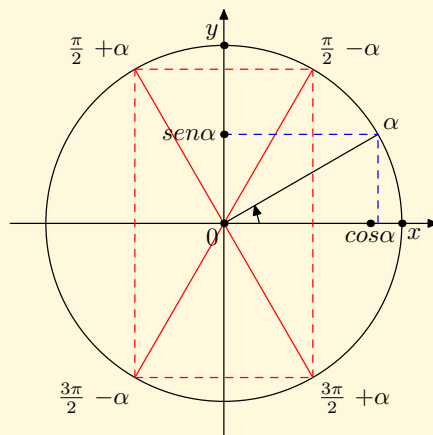
$$\operatorname{sen}\left(\frac{3\pi}{2} + \alpha\right) = -\cos \alpha$$

$$\cos\left(\frac{\pi}{2} - \alpha\right) = \operatorname{sen} \alpha$$


$$\cos\left(\frac{\pi}{2} + \alpha\right) = -\operatorname{sen} \alpha$$

$$\cos\left(\frac{3\pi}{2} - \alpha\right) = -\operatorname{sen} \alpha$$

$$\cos\left(\frac{3\pi}{2} + \alpha\right) = \operatorname{sen} \alpha$$



cambian el seno por el coseno y recíprocamente. El signo es el del cuadrante.



Las razones de los ángulos en rojo en función de π o 2π , se relacionan con las razones de α de la siguiente forma

$$\operatorname{sen}(\pi - \alpha) = \operatorname{sen} \alpha$$

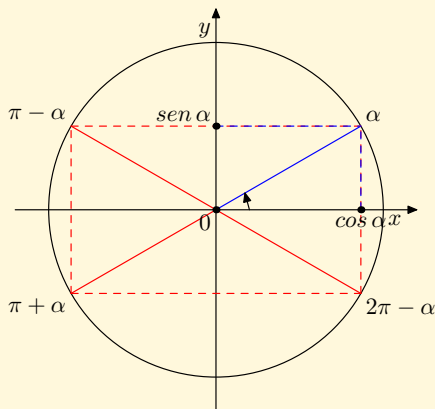
$$\operatorname{sen}(\pi + \alpha) = -\operatorname{sen} \alpha$$

$$\operatorname{sen}(2\pi - \alpha) = -\operatorname{sen} \alpha$$

$$\operatorname{cos}(\pi - \alpha) = -\operatorname{cos} \alpha$$

$$\operatorname{cos}(\pi + \alpha) = -\operatorname{cos} \alpha$$

$$\operatorname{cos}(2\pi - \alpha) = \operatorname{cos} \alpha$$



Ahora, las razones **se conservan**. El signo es el del cuadrante.

EJERCICIO 4. Calcular las siguientes razones trigonométricas:

(a) $\operatorname{sen} 120^\circ$

(b) $\operatorname{cos} 135^\circ$

(c) $\operatorname{tan} 210^\circ$



MaTeX

TRIGONO-
METRÍA I



Ejemplo 3.1. Aplicamos la regla anterior para reducir las siguientes razones trigonométricas en función de $\frac{\pi}{2}$, $\frac{3\pi}{2}$, π o 2π .

Solución:

$$\operatorname{sen}\left(\frac{\pi}{2} - \alpha\right) = \cos \alpha \quad \triangleleft \quad \text{cambia y sen I cuadrante} \quad > 0$$

$$\operatorname{sen}\left(\frac{\pi}{2} + \alpha\right) = \cos \alpha \quad \triangleleft \quad \text{cambia y sen II cuadrante} \quad > 0$$

$$\cos\left(\frac{3\pi}{2} - \alpha\right) = -\operatorname{sen} \alpha \quad \triangleleft \quad \text{cambia y cos III cuadrante} \quad < 0$$

$$\cos(\pi + \alpha) = -\cos \alpha \quad \triangleleft \quad \text{se conserva y cos III cuadrante} \quad < 0$$

$$\operatorname{sen}(\pi + \alpha) = -\operatorname{sen} \alpha \quad \triangleleft \quad \text{se conserva y sen III cuadrante} \quad < 0$$

$$\tan(\pi + \alpha) = \tan \alpha \quad \triangleleft \quad \text{se conserva y tan III cuadrante} \quad > 0$$

$$\tan\left(\frac{3\pi}{2} - \alpha\right) = \cot \alpha \quad \triangleleft \quad \text{cambia y tan III cuadrante} \quad > 0$$

$$\cos(2\pi - \alpha) = \cos \alpha \quad \triangleleft \quad \text{se conserva y cos IV cuadrante} \quad > 0$$

□



MaTEX

TRIGONO-
METRÍA I





Inicio del Test Indicar el valor de las razones siguientes:

1. El valor de $\sin\left(\frac{\pi}{2} - \alpha\right)$ es:

- (a) $\sin \alpha$ (b) $-\sin \alpha$ (c) $\cos \alpha$ (d) $-\cos \alpha$

2. El valor de $\cos\left(\frac{\pi}{2} + \alpha\right)$ es:

- (a) $\sin \alpha$ (b) $-\sin \alpha$ (c) $\cos \alpha$ (d) $-\cos \alpha$

3. El valor de $\sin(\pi - \alpha)$ es:

- (a) $\sin \alpha$ (b) $-\sin \alpha$ (c) $\cos \alpha$ (d) $-\cos \alpha$

4. El valor de $\cos(\pi - \alpha)$ es:

- (a) $\sin \alpha$ (b) $-\sin \alpha$ (c) $\cos \alpha$ (d) $-\cos \alpha$


5. El valor de $\cos(\pi + \alpha)$ es:

- (a) $\sin \alpha$ (b) $-\sin \alpha$ (c) $\cos \alpha$ (d) $-\cos \alpha$

Final del Test

MaTeX

TRIGONO-
METRÍA I





Inicio del Test Indicar el valor de las razones siguientes:

1. El valor de $\cos\left(\frac{3\pi}{2} - \alpha\right)$ es:

(a) $\sin \alpha$	(b) $-\sin \alpha$	(c) $\cos \alpha$	(d) $-\cos \alpha$
-------------------	--------------------	-------------------	--------------------
2. El valor de $\sin\left(\frac{3\pi}{2} + \alpha\right)$ es:

(a) $\sin \alpha$	(b) $-\sin \alpha$	(c) $\cos \alpha$	(d) $-\cos \alpha$
-------------------	--------------------	-------------------	--------------------
3. El valor de $\tan(\pi - \alpha)$ es:

(a) $\tan \alpha$	(b) $-\tan \alpha$	(c) $\cot \alpha$	(d) $-\cot \alpha$
-------------------	--------------------	-------------------	--------------------
4. El valor de $\tan(\pi + \alpha)$ es:

(a) $\tan \alpha$	(b) $-\tan \alpha$	(c) $\cot \alpha$	(d) $-\cot \alpha$
-------------------	--------------------	-------------------	--------------------
5. El valor de $\tan\left(\frac{3\pi}{2} - \alpha\right)$ es:

(a) $\tan \alpha$	(b) $-\tan \alpha$	(c) $\cot \alpha$	(d) $-\cot \alpha$
-------------------	--------------------	-------------------	--------------------

Final del Test

MaTeX

TRIGONO-
METRÍA I





Ejemplo 3.2. Reducir al primer cuadrante las razones

$$\sin 150^\circ \quad \cos 240^\circ \quad \cos 100^\circ \quad \tan 300^\circ \quad \tan 120^\circ$$

Solución:

$$\sin 150^\circ = \sin(180^\circ - 30^\circ) = \sin 30^\circ = \frac{\sqrt{3}}{2}$$

$$\cos 240^\circ = \cos(180^\circ + 60^\circ) = -\cos 60^\circ = -\frac{1}{2}$$

$$\cos 100^\circ = \cos(90^\circ + 10^\circ) = -\sin 10^\circ$$

$$\tan 300^\circ = \tan(360^\circ - 60^\circ) = -\tan 60^\circ = -\sqrt{3}$$

$$\tan 120^\circ = \tan(90^\circ + 30^\circ) = -\cot 30^\circ = -\sqrt{3}$$

□

Ejercicio 5. Reducir al primer cuadrante las razones:

a) $\sec 225^\circ$

b) $\cos 300^\circ$

c) $\sin 240^\circ$

Ejercicio 6. Reducir al primer cuadrante las razones:

a) $\sin 1500^\circ$

b) $\cos 2745^\circ$

c) $\tan 2010^\circ$

Ejercicio 7. Reducir al primer cuadrante las razones:


a) $\tan \frac{61\pi}{3}$

b) $\cos \frac{37\pi}{6}$

c) $\tan\left(-\frac{7\pi}{3}\right)$

MaTeX

TRIGONO-
METRÍA I



4. Identidades trigonométricas básicas

A partir de la identidad fundamental

$$\sin^2 \alpha + \cos^2 \alpha = 1$$

se observa que conocido el seno o el coseno de un ángulo podemos hallar las demás razones trigonométricas.

Ejemplo 4.1. Si $\sin \alpha = \frac{3}{7}$ y α está en el segundo cuadrante, calcula las demás razones trigonométricas de α

Solución: Como

$$\cos^2 \alpha = 1 - \sin^2 \alpha = 1 - \left(\frac{3}{7}\right)^2 = \frac{40}{49} \quad \cos \alpha = \pm \frac{2\sqrt{10}}{7}$$

Al estar α en el segundo cuadrante

$$\cos \alpha = -\frac{2\sqrt{10}}{7} \quad \tan \alpha = \frac{\sin \alpha}{\cos \alpha} = -\frac{3\sqrt{10}}{20}$$

□

Ejemplo 4.2. Calcula las razones trigonométricas de un ángulo del cuarto cuadrante si $\cos \alpha = \frac{3}{5}$

Solución: Como

$$\sin^2 \alpha = 1 - \cos^2 \alpha = 1 - \left(\frac{3}{5}\right)^2 = \frac{16}{25} \quad \sin \alpha = \pm \frac{4}{5}$$



MaTeX

TRIGONO-
METRÍA I



Al estar α en el cuarto cuadrante

$$\operatorname{sen} \alpha = -\frac{4}{5} \quad \tan \alpha = \frac{\operatorname{sen} \alpha}{\operatorname{cos} \alpha} = -\frac{4}{3}$$

□

Ahora intenta demostrar con el siguiente ejercicio otra identidad importante

Ejercicio 8. A partir de la fórmula fundamental, demuestra la siguiente identidad

$$\tan^2 \alpha + 1 = \sec^2 \alpha$$

(Divide por $\cos^2 \alpha$)

Ejemplo 4.3. Calcula las razones trigonométricas de un ángulo del tercer cuadrante si $\tan \alpha = \frac{4}{3}$

$$\text{Solución: } \sec^2 \alpha = 1 + \tan^2 \alpha = 1 + \left(\frac{4}{3}\right)^2 = \frac{25}{9} \quad \sec \alpha = \pm \frac{5}{3}$$

Al estar α en el tercer cuadrante

$$\sec \alpha = -\frac{5}{3} \quad \operatorname{cos} \alpha = -\frac{3}{5}$$

$$\operatorname{sen} \alpha = \tan \alpha \cdot \operatorname{cos} \alpha = -\frac{4}{5}$$

□



MaTeX

TRIGONO-
METRÍA I



Ejercicio 9. Calcula las razones trigonométricas de un ángulo del segundo cuadrante si $\cot \alpha = -\frac{3}{4}$

Ejercicio 10. Calcula las razones trigonométricas de un ángulo del cuarto cuadrante si $\tan \alpha = -\sqrt{2}$

Ejercicio 11. Simplifica las expresiones:

$$a) \frac{\cos^2 \alpha}{1 + \sin \alpha}$$

$$b) \frac{\cos(\pi + \alpha) - \sin(\frac{\pi}{2} - \alpha)}{\sin(\frac{3\pi}{2} + \alpha) + \cos(\pi - \alpha)}$$

Ejercicio 12. Simplifica las expresiones:

$$a) \sin^4 \alpha + \sin^2 \alpha \cos^2 \alpha$$

$$b) \frac{\sin^2 \alpha}{1 - \cos \alpha}$$

Ejercicio 13. Simplifica las expresiones:

$$a) \frac{\sin(\pi + \alpha) \tan(\frac{\pi}{2} + \alpha)}{\cot(\pi + \alpha)}$$

$$b) \frac{\sin(\pi + \alpha) \cos(\pi - \alpha)}{\cos(\frac{3\pi}{2} + \alpha) \sin(\frac{\pi}{2} + \alpha)}$$



MaTeX

TRIGONO-
METRÍA I





EJERCICIO 14. Demostrar las siguientes identidades:

$$(a) \frac{\sec^2 \alpha}{\cot \alpha} (1 - \sin^2 \alpha) \operatorname{cosec}^2 \alpha = \frac{\operatorname{cosec} \alpha}{\cos \alpha}$$

$$(b) \frac{\cos^4 \alpha - \sin^4 \alpha}{\sin \alpha \cos \alpha} = \frac{1 - \tan^2 \alpha}{\tan \alpha}$$

$$(c) \cot^4 \alpha \cos^2 \alpha - \cot^2 \alpha = -\cos^2 \alpha$$

$$(d) (1 - \sin^2 \alpha) \frac{1}{\cos \alpha} \frac{1 + \cos^2 \alpha}{2 - \sin^2 \alpha} \tan \alpha = \sin \alpha$$

$$(e) (1 + \tan \alpha) (1 + \cot \alpha) = \frac{(\sin \alpha + \cos \alpha)^2}{\sin \alpha \cos \alpha}$$

Test. La fórmula fundamental $\sin^2 \alpha + \cos^2 \alpha = 1$ se puede simplificar y obtenemos


$$\sin \alpha + \cos \alpha = 1$$

(a) Verdadero

(b) Falso

MaTeX

TRIGONO-
METRÍA I





EJERCICIO 15. Demostrar las siguientes identidades:

$$(a) \tan \alpha + \cot \alpha = \frac{\operatorname{cosec} \alpha}{\cos \alpha}$$

$$(b) \frac{\sec \alpha}{\cot \alpha + \tan \alpha} = \sin \alpha$$

$$(c) \frac{\sin \alpha}{1 + \cos \alpha} = \frac{1 - \cos \alpha}{\sin \alpha}$$


$$(d) \frac{\cos \alpha}{1 + \sin \alpha} = \frac{1 - \sin \alpha}{\cos \alpha}$$

$$(e) \cos^4 \alpha - \sin^4 \alpha = 1 - 2 \sin^2 \alpha$$

$$(f) \frac{1 - 2 \sin^2 \alpha}{\cos \alpha - \sin \alpha} = \sin \alpha + \cos \alpha$$

MaTeX

TRIGONO-
METRÍA I



Soluciones a los Ejercicios

Ejercicio 1. Como $\pi \equiv 180^\circ$,

■

$$\frac{\pi}{4} = \frac{180^\circ}{4} = 45^\circ$$

■

$$\frac{2\pi}{3} = \frac{2 \times 180^\circ}{3} = 120^\circ$$

■

$$\frac{3\pi}{2} = \frac{3 \times 180^\circ}{2} = 270^\circ$$

■


$$\frac{3\pi}{4} = \frac{3 \times 180^\circ}{4} = 135^\circ$$



MaTeX

TRIGONO-
METRÍA I

Ejercicio 1



Ejercicio 2. Como $1^\circ \equiv \frac{\pi}{180}$,

■

$$30^\circ \frac{\pi}{180^\circ} = \frac{\pi}{6} \text{ radianes}$$

■

$$45^\circ \frac{\pi}{180^\circ} = \frac{\pi}{4} \text{ radianes}$$

■

$$120^\circ \frac{\pi}{180^\circ} = \frac{2\pi}{3} \text{ radianes}$$

■


$$330^\circ \frac{\pi}{180^\circ} = \frac{11\pi}{6} \text{ radianes}$$



MaTeX

TRIGONO-
METRÍA I

Ejercicio 2

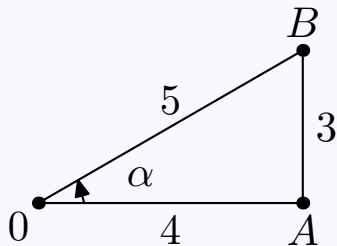


Ejercicio 3.

$$\operatorname{sen} \alpha = = \frac{AB}{OB} = \frac{3}{5}$$

$$\operatorname{cos} \alpha = = \frac{OA}{OB} = \frac{4}{5}$$


$$\operatorname{tan} \alpha = = \frac{AB}{OA} = \frac{3}{4}$$



Ejercicio 3



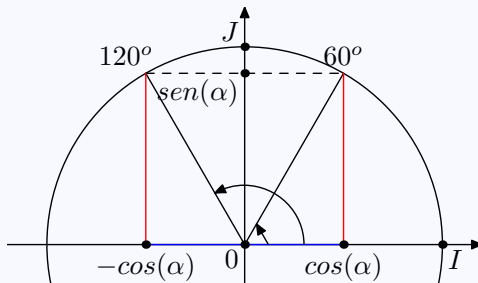
MaTeX

TRIGONO-
METRÍA I

Ejercicio 4(a)

$$\text{sen } 120^\circ = \text{sen}(180^\circ - 60^\circ) \quad (120^\circ \in 2^\circ \text{cuadrante})$$


$$= \text{sen } 60^\circ = \frac{\sqrt{3}}{2}$$



□



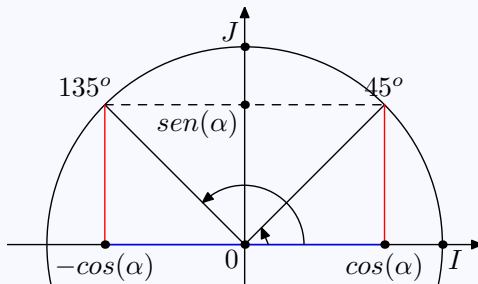
MaTEX

TRIGONO-
METRÍA I


Ejercicio 4(b)

$$\cos 135^\circ = \cos(180^\circ - 45^\circ) \quad (135^\circ \in 2^\circ \text{cuadrante})$$

$$= -\cos 45^\circ = -\frac{\sqrt{2}}{2}$$



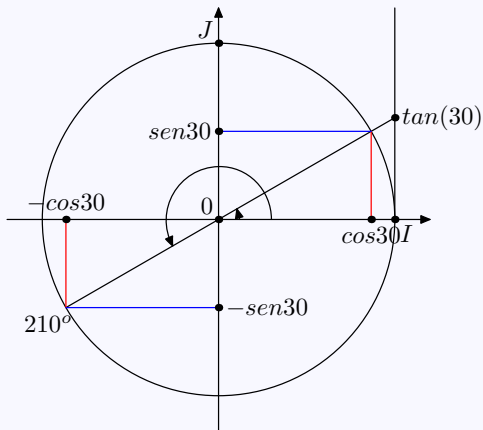
□

MaTEXTRIGONO-
METRÍA I

Ejercicio 4(c)


$$\tan 210^\circ = \tan(180^\circ + 30^\circ) \quad (210^\circ \in 3^\circ \text{cuadrante})$$

$$= \tan 30^\circ = \frac{\sqrt{3}}{3}$$



MaTEX

TRIGONO-
METRÍA I



Ejercicio 5. Como $\pi \equiv 180^\circ$,

a)

$$\begin{aligned}\sec 225^\circ &= \sec(180^\circ + 45^\circ) && (225^\circ \in 3^\circ \text{cuadrante}) \\ &= -\sec 45^\circ = -\frac{2}{\sqrt{2}}\end{aligned}$$

b)

$$\begin{aligned}\cos 330^\circ &= \cos(360^\circ - 30^\circ) && (330^\circ \in 4^\circ \text{cuadrante}) \\ &= \cos 30^\circ = \frac{\sqrt{3}}{2}\end{aligned}$$

c)

$$\begin{aligned}\sen 240^\circ &= \sen(180^\circ + 60^\circ) && (240^\circ \in 3^\circ \text{cuadrante}) \\ &= -\sen 60^\circ = -\frac{\sqrt{3}}{2}\end{aligned}$$

Ejercicio 5



MaTeX

TRIGONO-
METRÍA I





Ejercicio 6.

- a) Como 1500° es mayor que 360° vemos cuantas vuelta completas abarca. Como $1500 : 360 \simeq 4,166$ supera las 4 vueltas y se tiene que

$$1500 - 4 \times 360 = 1500 - 1440 = 60^\circ$$

$$\text{sen } 1500^\circ = \text{sen}(4 \times 360 + 60) = \text{sen } 60^\circ = \frac{\sqrt{3}}{2}$$

- b) Como 2745° mayor que 360° vemos cuantas vuelta completas abarca. Como $2745 : 360 = 7,625$ supera las 7 vueltas y se tiene que

$$2745 - 7 \times 360 = 2745 - 2520 = 225^\circ$$

$$\cos 2745^\circ = \cos 225^\circ = \cos(180 + 45) \quad (225^\circ \in 3^\circ \text{cuadrante})$$

$$= -\cos 45^\circ = -\frac{\sqrt{2}}{2}$$

- c) Como 2010° mayor que 360° reducimos al primer giro. Como $2010 : 360 \simeq 5,58$, se tiene que

$$2010 - 5 \times 360 = 2010 - 1800 = 210^\circ$$

$$\tan 2010^\circ = \tan 210^\circ = \tan(180 + 30) \quad (210^\circ \in 3^\circ \text{cuadrante})$$

$$= \tan 30^\circ = \frac{\sqrt{3}}{3}$$

MaTEx

TRIGONO- METRÍA I

◀◀	▶▶
◀	▶
◀ Doc	Doc ▶
Volver	Cerrar

Ejercicio 6



Ejercicio 7. Como $\pi \equiv 180^\circ$,

a) Como $\frac{61\pi}{3} = 3660^\circ$ mayor que 360° reducimos al primer giro. Como $3660 : 360 \simeq 10,16$, se tiene que

$$3660 - 10 \times 360 = 3660 - 3600 = 60^\circ$$

$$\tan 3660^\circ = \tan 60^\circ = \sqrt{3}$$

b) Como $\frac{37\pi}{6} = 1110^\circ$ mayor que 360° reducimos al primer giro. Como $1110 : 360 \simeq 3,08$, se tiene que

$$1110 - 3 \times 360 = 1110 - 1080 = 30^\circ$$

$$\cos 1110^\circ = \cos 30^\circ = \frac{\sqrt{3}}{2}$$

c) Como $\frac{7\pi}{3} = 420^\circ$ mayor que 360° reducimos al primer giro. Como

$$420 - 1 \times 360 = 60^\circ$$

$$\cos(-420^\circ) = \cos(360 + 60) \quad (-420^\circ \in 4^\circ \text{cuadrante})$$

$$= \cos 60^\circ = \frac{1}{2}$$

MaTeX

TRIGONO-
METRÍA I



Ejercicio 7

Ejercicio 8. Como

$$\sin^2 \alpha + \cos^2 \alpha = 1$$

Dividiendo por $\cos^2 \alpha$

$$\frac{\sin^2 \alpha}{\cos^2 \alpha} + \frac{\cos^2 \alpha}{\cos^2 \alpha} = \frac{1}{\cos^2 \alpha}$$

y simplificando se obtiene

$$\tan^2 \alpha + 1 = \sec^2 \alpha$$



MaTEX

Ejercicio 8

TRIGONO-
METRÍA I



Ejercicio 9. Como $\cot \alpha = -\frac{3}{4} \implies \tan \alpha = -\frac{4}{3}$ Como

$$\sec^2 \alpha = 1 + \tan^2 \alpha = 1 + \left(\frac{4}{3}\right)^2 = \frac{25}{9} \quad \sec \alpha = \pm \frac{5}{3}$$

Al estar α en el segundo cuadrante

$$\sec \alpha = -\frac{5}{3} \quad \cos \alpha = -\frac{3}{5}$$


$$\sen \alpha = \tan \alpha \cdot \cos \alpha = \frac{4}{5}$$

Ejercicio 9



MaTEX

TRIGONO-
METRÍA I



Ejercicio 10. Como

$$\sec^2 \alpha = 1 + \tan^2 \alpha = 1 + (\sqrt{2})^2 = 3 \quad \sec \alpha = \pm\sqrt{3}$$

Al estar α en el cuarto cuadrante

$$\sec \alpha = \sqrt{3} \quad \cos \alpha = \frac{1}{\sqrt{3}}$$


$$\sen \alpha = \tan \alpha \cdot \cos \alpha = -\frac{\sqrt{2}}{\sqrt{3}}$$

Ejercicio 10



MaTeX

TRIGONO-
METRÍA I



**Ejercicio 11.**


a)

$$\begin{aligned} \frac{\cos^2 \alpha}{1 + \operatorname{sen} \alpha} &= \frac{1 - \operatorname{sen}^2 \alpha}{1 + \operatorname{sen} \alpha} && \text{for. fundamental} \\ &= \frac{(1 + \operatorname{sen} \alpha)(1 - \operatorname{sen} \alpha)}{1 + \operatorname{sen} \alpha} && \text{dif. de cuadrados} \\ &= 1 - \operatorname{sen} \alpha && \text{simplif.} \end{aligned}$$

b)

$$\begin{aligned} \frac{\cos(\pi + \alpha) - \operatorname{sen}\left(\frac{\pi}{2} - \alpha\right)}{\operatorname{sen}\left(\frac{3\pi}{2} + \alpha\right) + \cos(\pi - \alpha)} &= \frac{-\cos \alpha - \cos \alpha}{-\cos \alpha - \cos \alpha} \\ &= 1 \end{aligned}$$

Ejercicio 11

MaTEXTRIGONO-
METRÍA I

**Ejercicio 12.**

a)


$$\begin{aligned} \sin^4 \alpha + \sin^2 \alpha \cos^2 \alpha &= \sin^2 \alpha (\sin^2 \alpha + \cos^2 \alpha) && \text{factor común} \\ &= \sin^2 \alpha && \text{for. fundamental} \end{aligned}$$

b)

$$\begin{aligned} \frac{\sin^2 \alpha}{1 - \cos \alpha} &= \frac{1 - \cos^2 \alpha}{1 - \cos \alpha} && \text{for fundamental} \\ &= \frac{(1 - \cos \alpha)(1 + \cos \alpha)}{1 - \cos \alpha} && \text{dif. cuadrados} \\ &= 1 + \cos \alpha && \text{simplificar} \end{aligned}$$

Ejercicio 12

MaTeX

TRIGONO-
METRÍA I

Ejercicio 13.

a)

$$\frac{\operatorname{sen}(\pi + \alpha) \tan\left(\frac{\pi}{2} + \alpha\right)}{\cot(\pi + \alpha)} = \frac{(-\operatorname{sen} \alpha) (-\cot \alpha)}{\cot \alpha}$$

$$= \operatorname{sen} \alpha$$

b)

$$\frac{\operatorname{sen}(\pi + \alpha) \cos(\pi - \alpha)}{\cos\left(\frac{3\pi}{2} + \alpha\right) \operatorname{sen}\left(\frac{\pi}{2} + \alpha\right)} = \frac{-\operatorname{sen} \alpha (-\cos \alpha)}{\operatorname{sen} \alpha \cos \alpha}$$

$$= 1$$

Ejercicio 13

*MaTeX*TRIGONO-
METRÍA I

Ejercicio 14(a)

$$\frac{\sec^2 \alpha}{\cot \alpha} (1 - \operatorname{sen}^2 \alpha) \operatorname{cosec}^2 \alpha = \frac{\operatorname{cosec} \alpha}{\cos \alpha}$$

for. fundamental

$$\frac{\sec^2 \alpha}{\cot \alpha} (\cos^2 \alpha) \operatorname{cosec}^2 \alpha = \frac{\operatorname{cosec} \alpha}{\cos \alpha}$$

simplif.

$$\frac{1}{\cot \alpha} \operatorname{cosec}^2 \alpha = \frac{\operatorname{cosec} \alpha}{\cos \alpha}$$

$$\cot \alpha = \frac{\cos}{\operatorname{sen}}$$

$$\frac{\operatorname{sen} \alpha}{\cos \alpha} \operatorname{cosec}^2 \alpha = \frac{\operatorname{cosec} \alpha}{\cos \alpha}$$

$$\frac{\operatorname{cosec} \alpha}{\cos \alpha} = \frac{\operatorname{cosec} \alpha}{\cos \alpha}$$

□

MaTEXTRIGONO-
METRÍA I

Ejercicio 14(b)

$$\frac{\cos^4 \alpha - \operatorname{sen}^4 \alpha}{\operatorname{sen} \alpha \cos \alpha} = \frac{1 - \tan^2 \alpha}{\tan \alpha}$$


$$\frac{(\cos^2 \alpha - \operatorname{sen}^2 \alpha)(\cos^2 \alpha + \operatorname{sen}^2 \alpha)}{\operatorname{sen} \alpha \cos \alpha} = \frac{1 - \tan^2 \alpha}{\tan \alpha}$$

$$\frac{\cos^2 \alpha - \operatorname{sen}^2 \alpha}{\operatorname{sen} \alpha \cos \alpha} = \frac{1 - \tan^2 \alpha}{\tan \alpha}$$

$$\frac{1 - \frac{\operatorname{sen}^2 \alpha}{\cos^2 \alpha}}{\operatorname{sen} \alpha \frac{\cos \alpha}{\cos^2 \alpha}} = \frac{1 - \tan^2 \alpha}{\tan \alpha}$$

$$\frac{1 - \tan^2 \alpha}{\tan \alpha} = \frac{1 - \tan^2 \alpha}{\tan \alpha}$$

□

MaTEXTRIGONO-
METRÍA I

Ejercicio 14(c)

$$\cot^4 \alpha \cos^2 \alpha - \cot^2 \alpha = -\cos^2 \alpha$$

$$\cot^2 \alpha (\cos^2 \alpha - 1) = -\cos^2 \alpha$$

$$-\cot^2 \alpha \operatorname{sen}^2 \alpha = -\cos^2 \alpha$$

$$-\frac{\cos^2 \alpha}{\operatorname{sen}^2 \alpha} \operatorname{sen}^2 \alpha = -\cos^2 \alpha$$

$$-\cos^2 \alpha = -\cos^2 \alpha$$

□

*MaTEX*TRIGONO-
METRÍA I

Ejercicio 14(d)

$$(1 - \operatorname{sen}^2 \alpha) \frac{1}{\cos \alpha} \frac{1 + \cos^2 \alpha}{2 - \operatorname{sen}^2 \alpha} \tan \alpha = \operatorname{sen} \alpha$$

$$\cos^2 \alpha \frac{1}{\cos \alpha} \frac{1 + \cos^2 \alpha}{2 - \operatorname{sen}^2 \alpha} \tan \alpha = \operatorname{sen} \alpha$$


$$\cos \alpha \frac{1 + \cos^2 \alpha}{2 - \operatorname{sen}^2 \alpha} \tan \alpha = \operatorname{sen} \alpha$$

$$\frac{1 + \cos^2 \alpha}{2 - \operatorname{sen}^2 \alpha} \operatorname{sen} \alpha = \operatorname{sen} \alpha$$

$$\frac{1 + (1 - \operatorname{sen}^2 \alpha)}{2 - \operatorname{sen}^2 \alpha} \operatorname{sen} \alpha = \operatorname{sen} \alpha$$

$$\operatorname{sen} \alpha = \operatorname{sen} \alpha$$

□

MaTEXTRIGONO-
METRÍA I


Ejercicio 14(e)

$$\begin{aligned}
 (1 + \tan \alpha) (1 + \cot \alpha) &= \frac{(\operatorname{sen} \alpha + \cos \alpha)^2}{\operatorname{sen} \alpha \cos \alpha} \\
 \left(1 + \frac{\operatorname{sen} \alpha}{\cos \alpha}\right) \left(1 + \frac{\cos \alpha}{\operatorname{sen} \alpha}\right) &= \frac{(\operatorname{sen} \alpha + \cos \alpha)^2}{\operatorname{sen} \alpha \cos \alpha} \\
 \left(\frac{\cos \alpha + \operatorname{sen} \alpha}{\cos \alpha}\right) \left(\frac{\operatorname{sen} \alpha + \cos \alpha}{\operatorname{sen} \alpha}\right) &= \frac{(\operatorname{sen} \alpha + \cos \alpha)^2}{\operatorname{sen} \alpha \cos \alpha} \\
 \frac{(\operatorname{sen} \alpha + \cos \alpha)^2}{\operatorname{sen} \alpha \cos \alpha} &= \frac{(\operatorname{sen} \alpha + \cos \alpha)^2}{\operatorname{sen} \alpha \cos \alpha}
 \end{aligned}$$

□

*MaTEX*

TRIGONO-
METRÍA I



Ejercicio 15(a)

$$\tan \alpha + \cot \alpha = \frac{\operatorname{cosec} \alpha}{\cos \alpha}$$

definición

$$\frac{\operatorname{sen} \alpha}{\cos \alpha} + \frac{\cos \alpha}{\operatorname{sen} \alpha} = \frac{\operatorname{cosec} \alpha}{\cos \alpha}$$

operamos

$$\frac{\operatorname{sen}^2 \alpha + \cos^2 \alpha}{\operatorname{sen} \alpha \cdot \cos \alpha} = \frac{\operatorname{cosec} \alpha}{\cos \alpha}$$


for. fundamental

$$\frac{1}{\operatorname{sen} \alpha \cdot \cos \alpha} = \frac{\operatorname{cosec} \alpha}{\cos \alpha}$$

definición

$$\frac{\operatorname{cosec} \alpha}{\cos \alpha} = \frac{\operatorname{cosec} \alpha}{\cos \alpha}$$

□

MaTEXTRIGONO-
METRÍA I

Ejercicio 15(b)

$$\frac{\sec \alpha}{\cot \alpha + \tan \alpha} = \sec \alpha$$

operando

$$\sec \alpha = \sec \alpha (\cot \alpha + \tan \alpha)$$

definición

$$\sec \alpha = \sec \alpha \left(\frac{\cos \alpha}{\sin \alpha} + \frac{\sin \alpha}{\cos \alpha} \right)$$

operando

$$\sec \alpha = \sec \alpha \left(\frac{\cos^2 \alpha + \sin^2 \alpha}{\sin \alpha \cdot \cos \alpha} \right)$$

for fundamental

$$\sec \alpha = \sec \alpha \left(\frac{1}{\sin \alpha \cdot \cos \alpha} \right)$$

simplificando

$$\sec \alpha = \frac{1}{\cos \alpha}$$

definición

□

*MaTeX*TRIGONO-
METRÍA I

Ejercicio 15(c)

$$\frac{\operatorname{sen} \alpha}{1 + \cos \alpha} = \frac{1 - \cos \alpha}{\operatorname{sen} \alpha}$$

$$\operatorname{sen}^2 \alpha = 1 - \cos^2 \alpha$$

$$\operatorname{sen}^2 \alpha = \operatorname{sen}^2 \alpha$$


operando

for. fundamental



MaT_EX

TRIGONO-
METRÍA I



Ejercicio 15(d)

$$\frac{\cos \alpha}{1 + \operatorname{sen} \alpha} = \frac{1 - \operatorname{sen} \alpha}{\cos \alpha}$$

operando

$$\cos^2 \alpha = 1 - \operatorname{sen}^2 \alpha$$

for. fundamental

$$\cos^2 \alpha = \cos^2 \alpha$$

□

MaTEXTRIGONO-
METRÍA I

Ejercicio 15(e)

$$\cos^4 \alpha - \operatorname{sen}^4 \alpha = 1 - 2 \operatorname{sen}^2 \alpha$$

dif. cuadrados

$$(\cos^2 \alpha - \operatorname{sen}^2 \alpha)(\cos^2 \alpha + \operatorname{sen}^2 \alpha) = 1 - 2 \operatorname{sen}^2 \alpha$$

for. fundamental

$$\cos^2 \alpha - \operatorname{sen}^2 \alpha = 1 - 2 \operatorname{sen}^2 \alpha$$

definición

$$1 - \operatorname{sen}^2 \alpha - \operatorname{sen}^2 \alpha = 1 - 2 \operatorname{sen}^2 \alpha$$

definición

□

*MaTEX*TRIGONO-
METRÍA I

Ejercicio 15(f)

$$\frac{1 - 2 \operatorname{sen}^2 \alpha}{\cos \alpha - \operatorname{sen} \alpha} = \operatorname{sen} \alpha + \cos \alpha$$

operando

$$1 - 2 \operatorname{sen}^2 \alpha = (\cos \alpha - \operatorname{sen} \alpha)(\operatorname{sen} \alpha + \cos \alpha)$$

operando

$$1 - 2 \operatorname{sen}^2 \alpha = \cos^2 \alpha - \operatorname{sen}^2 \alpha$$

for. fundamental

$$1 - 2 \operatorname{sen}^2 \alpha = 1 - \operatorname{sen}^2 \alpha - \operatorname{sen}^2 \alpha$$

□

*MaTEX*TRIGONO-
METRÍA I

Soluciones a los Tests

Solución al Test: Es falso pues

$$\sqrt{\sin^2 \alpha + \cos^2 \alpha} \neq \sin \alpha + \cos \alpha$$

basta ver que


$$\sqrt{4^2 + 9^2} = \sqrt{25} = 5 \neq \sqrt{4^2} + \sqrt{9^2} = 4 + 9 = 13$$

Final del Test



MaTEX

TRIGONO-
METRÍA I



Índice alfabético

Ángulo, 3

radián, 6

sexagesimal, 4

Demostrar identidades, 35, 36

Fórmula fundamental, 14

Identidades trigonométricas, 32

Razones trigonométricas, 8

ángulos opuestos, 25

ángulos suplementarios, 23

ampliación, 15

de 30° y 60° , 10

de 45° , 9

de ángulos complementarios,

21

reducción de cuadrante, 23

Simplificar expresiones, 34



MaTeX

TRIGONO-
METRÍA I

